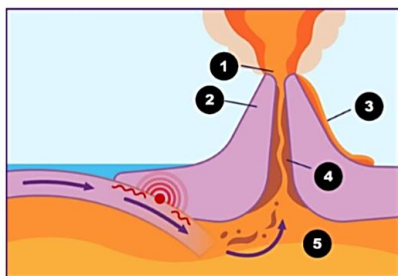


Всероссийская олимпиада школьников по  
географии **Школьный этап 2024-2025 учебный год**  
Бланк заданий – 8 класс

**Задание № 1.** Как называется внутригородское муниципальное образование Красносельского района Санкт-Петербурга, в котором расположено ваше образовательное учреждение?

Выберите правильный ответ и запишите его порядковый номер: 1. Юго-Запад; 2. Южно-Приморское; 3. Урицк; 4. Константиновское; 5. Сосновая Поляна; 6. Красное Село; 7. Горелово.



**Задание № 2.** На схеме показан процесс извержения вулкана.

**2. - 1** Составьте пары из цифр и названий частей вулкана:

А – лава; Б – кратер; В – магма; Г – жерло; Д – конус вулкана.  
Запишите результат в таблицу в бланке ответов.

**2. - 2** Какой из перечисленных вулканов не расположен на границе литосферных плит: 1) Везувий; 2) Гекла; 3) Ключевская Сопка; 4) Мауна-Лоа?

Выберите ответ и запишите его номер.



**Задание № 3.** Это животное является ядром всего хозяйственного уклада населения центральных высокогорных районов одного из континентов Земли.

**3. -1** Назовите животное: 1) бизон; 2) як; 3) зубр; 4) овцебык.

Выберите ответ и запишите в бланк ответов.

**3. -2** На каком континенте и в какой части света можно встретить в естественных условиях обитания?

Запишите названия континента и части света в бланк ответов.



**Задание № 4.** На фотографии со стенда Этнографического музея Петербурга запечатлён представитель одного из малочисленных народов Севера РФ, относящегося к финно-угорской группе уральской семьи языков. Это промысловики, рыболовы и оленеводы. Выберите из перечня народы РФ, схожие по хозяйственному укладу с оленеводом на фото: 1) ханты, 2) калмыки; 3) чувашаи; 4) ненцы.

Запишите номера ответов.



**Задание № 5.** Какой из перечисленных проливов разделяет территории самого большого количества государств:


- 1) Берингов; 2) Лаперуза;  
3) Магелланов; 4) Малаккский?

Выберите ответ и запишите его номер в бланк ответов



**Задание №6.** На фотографии начала XX века в Этнографическом музее Петербурга запечатлено традиционное жилище (из войлока на деревянном каркасе) одного из народов Южного Прибайкалья и Забайкалья. Народ относится к монгольской группе алтайской языковой семьи. Традиционные занятия полукочевое скотоводство и земледелие. Верующее население исповедует буддизм-ламаизм. Назовите народ и административно-территориальное образование, столицу которого основали русские как казачье зимовье в 1666 году? Запишите ответы в бланк ответов.

**Задание № 7.** В этом здании расположен один из известных музеев Петербурга. Для его строительства Преображенский полк подарил городу часть своего плац-парада. Музей посвящён ратному пути российского военачальника XVIII-XIX вв., который не потерпел ни одного поражения. Лицевой фасад здания украшают две мозаичные картины-панно. Сюжет панно слева от входа связан



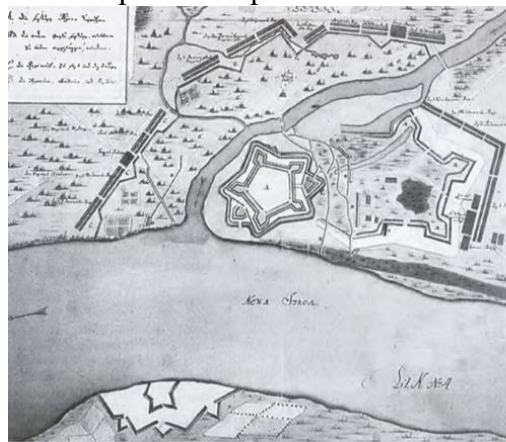
с самым тяжёлым, героическим переходом русских войск под руководством военачальника через перевалы высочайшей горной системы Европы во время стратегического манёвра союзников. Ответьте на вопросы:

**7.- 1** Чьё имя носит музей: 1) Петра Багратиона; 2) Михаила Барклая де Толли; 3) Михаила Кутузова; 4) Александра Суворова?

**7.- 2** О какой горной системе Европы идёт речь: 1) Альпы; 2) Карпаты; 3) Пиренеи; 4) Апеннины?

Запишите свои ответы в бланк ответов.

**Задание № 8.** Месяц спустя после взятия русскими войсками в апреле 1703 г. шведской крепости, на острове Заячий был основан Санкт-Петербург (27 мая 1703 года). По преданию Пётр I учёл расположение разрушенной крепости и велел найти для основания нового города остров ниже по течению, поближе к устью реки Невы. На фотографии – расчищенная в ходе раскопок булыжная мостовая улицы существовавшего вокруг крепостных стен крупного торгового города. Все находки планируют включить в экспозицию строящегося археологического музейного комплекса. Рассмотрите изображения и ответьте на вопросы:



**8.-1.** О какой крепости идёт речь?

А) Корела; Б) Ниеншанц;  
В) Копорская; Г) Выборгская;

**8.-2.** Как назывался город у стен крепости? А) Ниен; Б) Приозерск;  
В) Копорье; Г) Выборг;

**8.-3.** Штурмующим отрядам русских войск пришлось преодолевать приток Невы:

А) Ижора; Б) Тосна;  
В) Охта; Г) Мурзинка.

Выберите ответы, запишите номера



**Задание № 9.** В День Военно-морского флота России, 28 июля 2024 года, в Адмиралтействе открыт барельеф в честь русских моряков, совершивших великое географическое открытие. В январе 2025 года исполнится 205 лет со дня этого события.

На барельефе под двуглавым орлом в короне Российской империи запечатлены командующие русской экспедицией, рядовой матрос и морские офицеры. Из природных объектов показаны плавучая гигантская ледяная скала и птицы, которые цветом своего оперения и походкой часто напоминают очень важных господ.

Какому свершению русских моряков посвящён барельеф?

Запишите свой ответ в бланк ответов.



**Задание № 10.** В геральдике часто используют изображения растений, животных, значимых для жизни горожан явлений и исторических событий. Гербы некоторых российских городов настолько выразительные, что словно «подсказывают» название города. Рассмотрите их и выполните задания:

**10. -1** Запишите номера гербов, на которых центральное (основное) место занимает изображение представителей фауны;

**10. -2** Составьте пары из гербов и названий городов, запишите ответы в виде сочетания цифра-буква в таблицу в бланке ответов: А) Оленегорск; Б) Ивангород; В) Бобёр; Г) Стародуб; Д) Калининград; Е) Щучье; Ж) Меленки; З) Сычёвка; И) Зима; К) Белогорск.



**Задание № 11.** Перед вами изображения нескольких табличек, которые можно увидеть на домах в историческом центре Петербурга, а также часть гранитного обелиска-водомера возле Синего моста на набережной реки Мойки у Исаакиевской площади. На всех есть упоминание 1824 года. На водомерном столбе ещё и 1924, и другие даты с 1703 года.

**11-1.** Какое природное явление в ноябре 1824 года, так сильно впечатлило горожан, что они установили и до наших дней сохраняют памятные таблички с надписями на русском и немецком языках: 1) наводнение; 2) землетрясение; 3) извержение вулкана; 4) цунами?

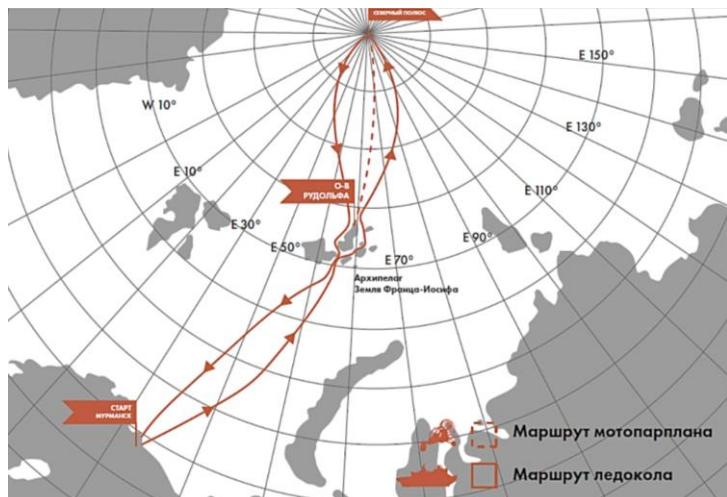
**11-2.** Может ли на водомере появиться метка «2024 год»?

1) Да, это может случиться в 2024 году; 2) Нет, город сегодня защищён дамбой; 3) Зависит от масштаба опасного природного явления. Выберите ответы и запишите их номера в бланк ответов.

**Задание № 12.** В 1240 году ливонскими рыцарями основана крепость Копорье, она располагалась прямо на берегу Копорской губы Финского залива. А в наши дни от стен крепости Копорье до морского побережья расстояние около 12 км. Рассмотрите скриншот Яндекс-карты. Ответьте на вопрос: какое именно направление вековых движений земной коры в этой части Евразии могло привести к тому, что море от крепости отступило на 12 км? Выберите вариант изображения стрелками (стрелкой) направления движений земной коры и запишите его номер в бланк ответов. Произведите вычисление: с какой скоростью происходил процесс, приняв за 800 лет временной промежуток со времени основания крепости? Запишите результат вычислений (в метрах) в год.

1	↑
2	→ ←
3	↓
4	← →

**Задание № 13.** Путешественник Фёдор Конюхов и пилот Игорь Потапкин совершили рекордный полёт на мотопараплане. Стартовав со льдины 7 июля, они успешно приземлились в финальной точке маршрута 8 июля в 02:42 по московскому времени. Протяжённость беспосадочного перелёта составила около 440 км, на что ушло 10 часов 13 минут. К острову Рудольфа, самому северному острову России путешественников доставил ледокол «50 лет Победы». В поисках подходящей для старта льдины ледокол выдвинулся ещё дальше на 400 км. Полёт проходил на высоте от 267 до 835 метров. После приземления Ф. Конюхов сообщил: «Посадка успешная в запланированной точке 90° широты». Это был самый продолжительный и дальний полёт в высоких широтах. Рекорд установлен! Рассмотрите карту рекордного перелёта и ответьте на вопросы:



13. -1 Полёт проходил над акваторией \_\_\_\_\_ океана;
13. -2 Направление полёта было на \_\_\_\_\_ (С, Ю, З, В);
13. -3 Точка приземления на 90° широты – это: 1) Южный тропик; 2) Северный полюс; 3) Северный тропик; 4) Северный полярный круг?
13. -4 Остров Рудольфа входит в состав архипелага:
- 1) Новая Земля; 2) Северная Земля;  
3) Земля Франца-Иосифа;  
4) Шпицберген?

Заполните пропуски; выберите номера правильных ответов, запишите в бланк ответов



**Задание № 14.** Гонки ралли «Шёлковый путь» в 2024 году проходили с 5 по 15 июля. Стартовав в Томске, участники преодолели более 5000 км по России и Монголии и финишировали в Улан-Баторе. В этот раз гонки переместились из Европейской части России в Сибирь и на Алтай, а финишировали гонщики, преодолев 1400 км по Монголии, в её столице. Выполните задания. Ответы запишите в бланк ответов.

**14.– 1** Рассмотрите репортажные фото с этапов и карту ралли, выберите правильные утверждения:

- 1) После тяжелейших горных этапов на Алтае гонщики с удовольствием спокойно передвигались по преимущественно равнинным просторам Монголии;
- 2) Ралли проходило по густонаселённым районам, гонщиков приветствовали местные жители;
- 3) Почти 1400 км этапов по территории Монголии – это пыль и песок, которые проникали повсюду, мотоциклисты завязли в песках, у многих гонщиков глохли двигатели;
- 4) Монголия встретила ралли живописными песчаными дюнами и барханами, которые не создавали гонщикам никаких проблем.



1



2



3



4

**14.-2** Подберите фото в качестве иллюстрации к следующим словам из интервью участников:

- А) «Местность кажется из кабины совершенно безлюдной, для марафона – самые подходящие условия»;
- Б) «В движении из-под колёс взвиваются тучи песка и пыли, попадая в глаза и в нос»;
- В) «Местность с очень сложным профилем, видели несколько переворотов машин»;
- Г) «Наглодавшись песка и пыли, с ностальгией вспоминали щебёнку, грязь, бесчисленные реки и ручейки, леса горных этапов Алтая».

**Задание № 15.** По оценкам экспертов, в прибрежной зоне Северного Ледовитого океана с середины XX века скопилось до 12 миллионов бочек из-под топлива. Более 10 лет Русское географическое общество (РГО) участвует в экологическом проекте «Очистка Арктики»: учёные РГО, экологический взвод Северного флота и добровольцы очищают территории Арктической зоны РФ от антропогенного загрязнения.



Рассмотрите фото, сделанное участниками проекта «Очистка Арктики» в 2024 году во время погрузки собранного мусора.

Какой из видов отходов техногенного происхождения явно преобладает на берегах Северного Ледовитого океана:

- 1) стекло; 2) бетон; 3) бумага; 4) металлолом?

Выберите ответ и запишите его номер в бланк ответов.